



# ABDÜLEZEL PAŞA İMAM HATİP ORTAOKULU

## 5. SINIF SEÇME SINAVI

📅 4 NİSAN 2026 • 🕒 SAAT: 14.00

ADI SOYADI : .....  
T.C. KİMLİK NO : .....  
OKULU : .....

DERS ADI	SORU SAYISI	TOPLAM SORU
Türkçe	15	60
Matematik	15	
Fen Bilimleri	10	
Sosyal Bilgiler	10	
Din Kültürü ve Ahlak Bilgisi	10	

🕒 SINAV SÜRESİ: 90 DAKİKA

### 📌 SINAV KURALLARI

- Sınav başlamadan önce sayfaları kontrol ediniz. Eksik veya hatalı basım varsa salon görevlisine bildirin.
- Sınav değerlendirmesinde 3 yanlış cevap, 1 doğru cevabınızı götürmeyecektir. Tüm soruları yanıtlamanız faydanıza olacaktır.
- Puanlama işlemlerinde Türkçe ve Matematik testlerinin katsayıları farklılık arz etmekte olup, her bir sorunun puan ağırlığı ait olduğu testin standartlarına göre ayrıca hesaplanarak değerlendirmeye alınacaktır.
- Sınav sırasında kopya çekmek, kopya vermeye teşebbüs etmek sınavınızın iptal olmasına neden olacaktır.

*Başarılar Dileriz*

ABDÜLEZEL PAŞA  
İMAM HATİP ORTAOKULU

Sınav kitapçığı ve cevap anahtarı için okutunuz.





# ABDÜLEZZEL PAŞA

İmam Hatip Ortaokulu

KIZ VE ERKEK PANSİYONU İLE EĞİTİMİN GÜVENCESİ

ECDADIN İZİNDE, İSTİKBALİN PEŞİNDE



## BARINMA İMKÂNI

Uzaktan gelen öğrencilerimiz için modern Kız ve Erkek pansiyonu.



## AKADEMİK BAŞARI

LGS'de Türkiye birincilikleri çıkaran uzman eğitim kadrosu.



## MANEVİ GELİŞİM

Hafızlık eğitimi ve değerler eğitimi ile donanımlı şahsiyetler.

## Eğitimde Bir Marka: Abdülezzel Paşa

Okulumuz, hem akademik başarıları hem de sunduğu Kız ve Erkek pansiyon imkânlarıyla öğrencilerine ev konforunda bir eğitim ortamı sunan köklü bir kurumdur.



GÜVENLİ GELECEK

## OKULUMUZUN SUNDUĞU AYRICALIKLAR

### KIZ VE ERKEK PANSİYONU

Şehir dışından ve uzak ilçelerden gelen öğrencilerimiz için güvenli, temiz ve huzurlu barınma hizmeti.

### LGS HAZIRLIK PROGRAMI

Deneme sınavları, etüt saatleri ve bireysel akademik takip sistemiyle tam donanımlı hazırlık.

### YABANCI DİL AĞIRLIĞI

Günlük hayatta konuşulabilen İngilizce ve Arapça eğitimi için özel olarak kurgulanmış sınıflar.

### SOSYAL & SPORİF ALANLAR

Futbol sahası, kapalı spor alanları, robotik kodlama sınıfı ve zenginleştirilmiş kütüphane.

## EĞİTİM YOLCULUĞUMUZ

- **5. Sınıf:** Temel Bilimler ve Hafızlık Başlangıcı
- **6. Sınıf:** Yoğunlaştırılmış Hafızlık ve Yabancı Dil Eğitimi
- **7. Sınıf:** Akademik Derinleşme ve Proje Hazırlık
- **8. Sınıf:** LGS Odaklı Hazırlık ve Mezuniyet

## BİZDEN BİR NOT

"Sevgili Genç,  
Seni sadece başarılı bir öğrenci olarak değil; vatanına, ailesine ve değerlerine bağlı bir 'şahsiyet' olarak yetiştirmek için buradayız. Bu kapıdan girdiğinde, büyük bir ailenin parçası olacaksın."

SENİ BEKLİYORUZ

1. Bu testte 15 soru vardır.

2. Cevaplarınızı cevap kâğıdının Türkçe Testi için ayrılan kısmına işaretleyiniz

1. Abdülez el Paşa İHO'da düzenlenen bilgi yarışmasında ilk beşe Seda, Cansu, Yasemin, Ahmet ve Ece kalmıştır. Yarışmanın sonucuyla ilgili bilinenler şunlardır:

- Seda ve Yasemin arasında iki kişi bulunmaktadır.
- Cansu yarışmada birinci olmuştur.
- Ahmet, Ece'nin hemen bir alt sırasında yarışmayı tamamlamıştır ve sonuncu olmamıştır.

**Buna göre yarışmayı üçüncü bitiren kişi aşağıdakilerden hangisidir?**

A) Ahmet B) Ece C) Yasemin D) Seda

2. Her harfin bir rakama karşılık geldiği bir şifreleme yönteminde "TANIK" sözcüğü "13579" şeklinde yazılmaktadır.

**Bu şifreleme yöntemine göre hangisi "ANIT, AKIN, KINA, TAKI" sözcüklerinden birinin yazılışı değildir?**

A) 3571 B) 9713 C) 3975 D) 1397

3. Saray, köşk, han, kale, köprü, anıt vb. yapı adlarının bütün kelimeleri büyük harfle başlar.

**Aşağıdakilerin hangisinde bu kurala uymamaktan kaynaklanan bir yazım yanlış vardır?**

- A) Dün Atatürk köşküne gittik.
- B) 15 Temmuz Şehitler Köprüsü'nde bakım çalışması var.
- C) Alanya Kalesi'nden şehri izledik.
- D) Topkapı Sarayı'nı gezeceğiz.

4. Aşağıdaki cümlelerde geçen altı çizili sözcüklerden hangisinin hem eş anlamlısı hem eş seslisi vardır?

- A) Evin arkasına gül dikeceğiz.
- B) Kömürden daha kara gözleri var.
- C) Boynuna bevaz bir atkı takmış.
- D) Benim sol tarafımda Ali oturuyor.

5. Siz siz olun bugün aklınızdan geçen güzellikleri asla yarına bırakmayın. Ne yaparsanız hemen ama hemen şimdi yapın. Çiçek mi sulayacaksınız, sulayın. Sinemada çok beğendiğiniz bir film mi var, hemen gidip seyredin. Yiyin, için, şarkı söyleyin, dans edin... Ama ne yapacaksınız hemen yapın çünkü siz bugün bugünü yaşıyorsunuz.

**Bu metinde vurgulanmak istenen aşağıdakilerden hangisidir?**

- A) Boş zamanlarımızı her zaman en iyi şekilde değerlendirmeliyiz.
- B) Hayat bazı şeylere üzölmek için çok kısadır.
- C) Yarını yaşayacağımızın garantisi olmadığı için hiçbir şeyi ertelememeliyiz.
- D) Yaşarken hayattan zevk almalıyız.

6. Aşağıdaki cümlelerin hangisinde "kim, nereye, ne zaman, nasıl" sorularının tamamının cevabı vardır?

- A) Kayra, ödevini akşamları yapardı.
- B) Bugün arkadaşım ile buluşacağımız için çok heyecanlıyım.
- C) Hepimiz bu yaz karavanla tatil yapacağız.
- D) Sena, bu dönem okula yürüyerek gidecek.

7. Aşağıdaki cümlelerin hangisinde altı çizili kelimelerde kullanılan nokta (.) işareti yanlış kullanılmıştır?

- A) Zeynep, yarışmada 3. olunca çok sevindi.  
 B) 18 . Eylül . 2016'da Konya'ya taşındık.  
 C) Okulumuzda saat 14.30 'da mı bayrak töreni başlayacak?  
 D) Prof. Dr. Kemal Aydın'ın tayini çıkmış.

8. 1. “Isı ve ışık konusu fen dersinde öğrencilerin en sevdiği konulardan birisidir.”  
 2. Anlattıkları gerçekten kafamdaki tüm sorulara ışık tuttu.  
 3. Çok karanlık oldu, odanın ışığını açar mısın?

“Işık” sözcüğünün cümlelerdeki anlam özellikleri hangi seçenekte doğru sıralanmıştır?

	1. CÜMLE	2. CÜMLE	3. CÜMLE
A)	Terim anlam	Mecaz Anlam	Gerçek anlam
B)	Gerçek anlam	Mecaz anlam	Terim anlam
C)	Mecaz anlam	Terim anlam	Gerçek anlam
D)	Terim anlam	Gerçek anlam	Mecaz anlam

9. Söyleyenin kendi düşüncesini, duygusunu veya beğenisini içeren cümleler öznel cümlelerdir. Doğruluğu ya da yanlışlığı kişiden kişiye göre değiştiği için öznel yargılar kanıtlanamaz.

Aşağıdaki cümlelerin hangisi öznel bir cümledir?

- A) Kırlangıçlar bizim binaya yuva yapmıştı.  
 B) Karabatak, ülkemizdeki en büyük deniz kuşudur.  
 C) Sumru kuşu martıdan daha küçük bir kuştur.  
 D) Turna kuşlarının boyunlarında büyüleyici güzellikte renkler vardı.

10. İyi bir şeyi ya da işi çok fazla yapmak her zaman iyi olmayabilir. Örneğin insanın spor yapması iyidir ancak aşırı şekilde yapılan spor vücuda zarar verebilir. Çoğu bitkinin sulanması iyidir ama gerektiğinden fazla sulanan bitki çürüyebilir. Sağlıklı yiyecekler bile aşırı tüketildiğinde midemize zarar verebilir. Bu örnekler her canlı için çoğaltılabilir. İhtiyaç duyulan ya da faydalı olan şeyin yapılması gerekir ama aşırı şekilde yapılmasına da gerek yoktur. **Bu metinde asıl anlatılmak istenen aşağıdakilerden hangisidir?**

- A) Mide sağlığını korumak için yenilenlere dikkat edilmelidir.  
 B) Düzenli ve yeterince spor yapan herkes sağlıklı olur.  
 C) Su, bitkilerin en çok ihtiyaç duyduğu maddedir.  
 D) Faydalı olan şeylerin fazlası canlılara zarar verebilir.

11. Yalıçapkınıgiller ailesinde yer alan bayağı yalıçapkını Avrupa, Güneydoğu Asya ve Afrika’da görülür. Çoğunlukla tropik iklim koşullarında, göl, deniz ve nehir kenarlarında yaşarlar. Sırt kısımları mavimsi yeşil, karınları kızılımsı, kuyrukları ise metalik mavi renktedir. Bayağı yalıçapkınlarının Dünya Doğayı Koruma Birliği tarafından hazırlanan kırmızı listenin “Düşük Riskli” kategorisinde yer alması, tehdit altında olmadıklarını ve doğadaki nüfuslarının fazla olduğunu gösteriyor.

**Bu metinde “bayağı yalıçapkını” ile ilgili aşağıdakilerden hangisine değinilmemiştir?**

- A) Fiziksel özelliklerine  
 B) Yaşadıkları bölgelere  
 C) Nadir bulunan bir tür olduklarına  
 D) Tehdit altında olmadıklarına

12.

Türü	Ahmet	Rasim	Mithat	İsmail
Deneme	2	1	2	3
Hikaye	1	2	3	2
Roman	0	1	2	1
Biyografi	1	1	2	1

Yukarıdaki tabloda Ahmet, Rasim, Mithat ve İsmail'in okudukları kitap türleri ve bu kitapları kaçar kez okudukları aktarılmıştır. Buna göre aşağıdaki bilgilerden hangisi yanlıştır?

- A) En az okunan tür roman olmuştur.  
 B) En çok kitap okuyan kişi Mithat'dır.  
 C) Hikâye ve deneme eşit miktarda okunmuştur.  
 D) Ahmet ve Rasim eşit sayıda kitap okumuştur.

13. Bir sözcük cümle içerisinde farklı anlamlar kazanabilir. Buna çok anlamlılık denir. Bu bilgiye göre "ince" sözcüğü numaralanmış cümlelerin hangisinde "ayrıntılı" anlamında kullanılmıştır?

- I. Bu çocuk yıllardır **ince** davranmayı bir türlü beceremiyor.  
 II. Evin yan duvarı gözüme çok **ince** göründü.  
 III. Arabayı **ince** temizlemedikleri için lekeler belli oluyor.  
 IV. İnşaat alanına bir kamyon **ince** kum döktüler.

- A) I      B) II      C) III      D) IV

14. Bir eylemin hangi sebeple yapıldığını bildiren cümlelere neden-sonuç (sebeup-sonuç) cümleleri denir. Aşağıdaki cümlelerden hangisinde neden-sonuç ilişkisi vardır?

- A) Sınavı kazanmak için düzenli ders çalışıyor.  
 B) Böyle devam ederse su kaynaklarımız kısa zamanda tükenecek.  
 C) Konuyu tam bilmediği için soruları yanlış çözmüş.  
 D) Pek çok bilim insanı kanserle ilgili araştırmalar yaptı.

15. "Karanlığın en koyu olduğu an, şafak sökmeden önceki andır." Aşağıdaki cümlelerden hangisi bu cümleye anlamca en yakın olan cümledir?

- A) İçindeki yaşama sevinci bittiği anda insan hiçbir şeyden zevk almaz.  
 B) Mutluluğun da acının da bir sınırı vardır.  
 C) Bir acının dayanılmaz olduğu zamanlar, o acının bitmesine en yakın olduğu zamanlardır.  
 D) Mutluluğu elde etmek için acı çekmek gerekebilir.

1. Bu testte 15 soru vardır.

2. Cevaplarınızı cevap kâğıdının Matematik Testi için ayrılan kısmına işaretleyiniz

1.



Yukarıda modellenen kesir hangisidir?

- A)  $\frac{3}{5}$       B)  $\frac{3}{7}$       C)  $\frac{9}{15}$       D)  $\frac{9}{16}$

2.  $\frac{4+\Delta}{12}$  kesri bileşik kesirdir. Buna göre  $\Delta$  yerine yazılabilecek en küçük doğal sayı kaçtır?

- A) 10      B) 9      C) 8      D) 7

3. 572 kişilik bir turist kfilesi, otobüsle müzeye gitmek istiyor. Otobüs 43 kişilik olduğuna göre müzeye gitmek için kaç otobüse ihtiyaç vardır?


- A) 14      B) 13      C) 12      D) 11

4. Bir tur otobüsü saat 07.30'da hareket edip saat 22.00' de gideceği yere varmayı planlıyor. Buna göre bu otobüs gideceği yere ne kadar sürede ulaşmıştır?

- A) 14 saat 30 dakika  
B) 15 saat 30 dakika  
C) 16 saat 30 dakika  
D) 17 saat 30 dakika

5. Ayşe Hanım, çamaşırlarını yıkayıp kuruması için iplere aşağıdaki gibi asmaktadır.

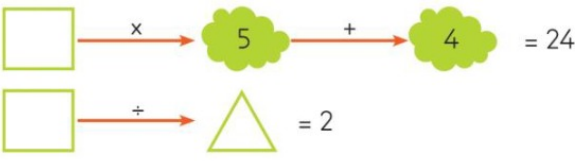
- Her çamaşır için 2 mandal kullanmaktadır.
- Yan yana asılan çamaşırların uçlarını üst üste koyup ortak mandal kullanıyor.




Ayşe Hanım 3 tane ipe, her bir ipte 15 **mandal** olacak şekilde çamaşırları asıyor.

Buna göre Ayşe Hanım'ın astığı çamaşır sayısı aşağıdakilerden hangisidir?




- A) 36      B) 39      C) 42      D) 45

6. 

Yukarıda verilen şemaya göre  işleminin sonucu kaçtır?

- A) 2      B) 4      C) 6      D) 8

7. Aşağıda farklı markada buzdolabı fiyatları ve hacimleri verilmiştir:

Buzdolabı	Fiyatı	Hacmi
	45.850 TL	471 LT
	30.750 TL	434 LT
	18.450 TL	212 LT

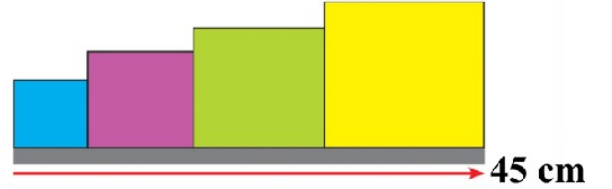
Ela Hanım bu buzdolaplarından en pahalı olanını; Ahmet Bey ise hacmi en az olanını alıyor.

Buna göre Ela Hanım ve Ahmet Bey'in aldıkları buzdolapları için toplam ne kadar ücret ödemişlerdir?

- A) 65.000  
B) 64.300  
C) 63.750  
D) 63.000



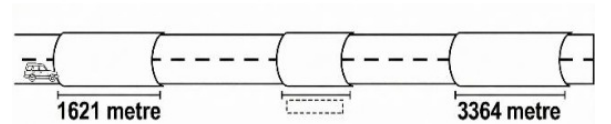
Yukarıdaki karelerin bir kenar uzunluğu, kendinden önceki karenin bir kenar uzunluğunun iki katıdır.



Kareler yan yana boşluk kalmadan dizildiğinde uzunluğu 45 cm olduğuna göre şekil-III deki karenin bir kenar uzunluğu kaç cm'dir?

- A) 3      B) 6      C) 12      D) 24

9. Aşağıda bir otoyolda hareket eden bir araba ve bu yolda bulunan tünellerin uzunlukları verilmiştir.



Bu arabanın geçtiği tünellerin uzunlukları **en yakın binliğe** yuvarlayarak toplandığında elde edilen sonuç 6000 metredir.

Buna göre bu arabanın geçtiği ikinci tünelin uzunluğu kaç metre olabilir?

- A) 1615    B) 1600    C) 1500    D) 1476

10. Aşağıdaki eşitliklerde sembollerin yerine gelecek doğal sayıyı bulunuz.

$$(29 \times 32) \times 25 = (32 \times \square) \times 29$$

- A) 32    B) 29    C) 25    D) 20

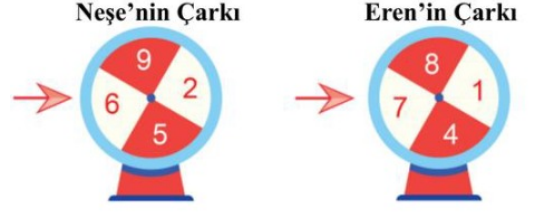
11. Aşağıdaki tabloda bazı illerin 2019 yılındaki nüfusları verilmiştir:

İL	NÜFUS
Erzurum	762 062
Sivas	638 956
Malatya	800 165
Çanakkale	542 157
Bingöl	297 812

Bu illerin nüfuslarına göre küçükten büyüğe doğru sıralanışı aşağıdakilerden hangisidir?

- A) Çanakkale < Sivas < Bingöl < Erzurum < Malatya  
 B) Malatya < Erzurum < Sivas < Çanakkale < Bingöl  
 C) Bingöl < Malatya < Çanakkale < Sivas < Erzurum  
 D) Bingöl < Çanakkale < Sivas < Erzurum < Malatya


12. Neşe ve Eren kendilerine ait çarkları çevirerek okun gösterdiği rakamı yazıp bu rakamlardan sayılar oluşturuyorlar:



Buna göre Neşe'nin yazabileceği rakamları birbirinden farklı dört basamaklı en büyük çift doğal sayı ile Eren'in yazabileceği rakamları birbirinden farklı dört basamaklı en küçük tek doğal sayının farkı kaçtır?

- A) 8165    B) 8084    C) 8090    D) 8087

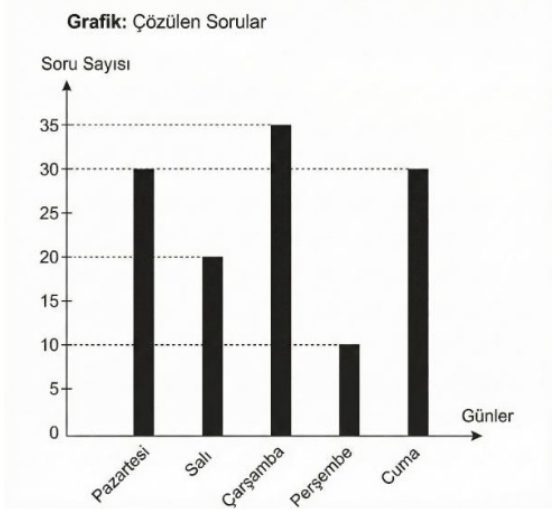
- 13.



Sevgi tahtada verilen kesirlerden en büyük kesir ile en küçük kesri toplamıştır. Sevgi'nin bulduğu sonuç aşağıdakilerden hangisidir?

- A)  $\frac{4}{12}$     B)  $\frac{5}{12}$     C)  $\frac{6}{12}$     D)  $\frac{7}{12}$

14. Aşağıdaki grafikte Fatih'in günlere göre çözdüğü soru sayıları gösterilmiştir.



Grafiğe göre aşağıdakilerden hangisi yanlıştır?

- A) Cuma günü, salı gününden daha fazla soru çözmüştür.
- B) En fazla soru çözdüğü gün çarşamba'dır.
- C) Pazartesi ve çarşamba günleri çözdüğü soru sayısı eşittir.
- D) Cuma günü çözdüğü soru sayısı, salı ve perşembe günü çözdüğü soru sayılarının toplamına eşittir.

15. İlk sınavına Çarşamba günü giren Fatih, ikinci sınavına 132 gün sonra girmiştir. Buna göre Fatih ikinci sınavına hangi gün girmiştir?

- A) Salı
- B) Çarşamba
- C) Perşembe
- D) Cuma


1. Bu testte 10 soru vardır.

2. Cevaplarınızı cevap kâğıdının Fen Bilimleri Testi için ayrılan kısmına işaretleyiniz.

1. Süzme yöntemi aşağıda özelliği verilen hangi maddelerin ayrıştırılmasında kullanılır?

- A) Katı maddenin sıvı içerisine tam karışmasıyla oluşan karışımları
- B) Küçük parçacıklı katı madde ile büyük parçacıklı katı maddelerin oluşturduğu karışımı
- C) Birbirine karışmış olan sıvıların oluşturduğu karışım
- D) Katı maddelerin sıvı içerisinde karışmadan oluşturduğu karışımı

2. Aynı noktadan harekete başlayan Ege, Sevde ve Huzeyfe bitiş noktasına ulaşmak için yarışlar.



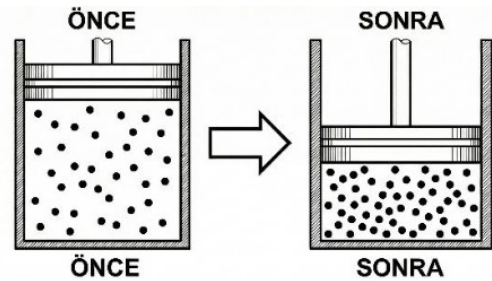
Bitiş noktasına Ege 20, Sevde 28, Huzeyfe 25 dakikada ulaşmıştır. Yarışmadaki öğrencilerin süratlerinin karşılaştırılmasının verildiği şıklardan hangisi doğrudur?

- A) Ege > Huzeyfe > Sevde
- B) Sevde > Huzeyfe > Ege
- C) Huzeyfe > Sevde > Ege
- D) Ege > Sevde > Huzeyfe

3. Seda, el fenerini sabit tutup bir portakalı kendi eksenini etrafında döndürüyor. Portakalın ışık alan tarafının sürekli değiştiğini fark ediyor. Seda'nın bu deneyi Dünyanın hangi hareketini ve sonucunu temsil eder?

- A) Dönme hareketi – Bir yılın oluşumu
- B) Dolanma hareketi – Ayın evreleri
- C) Dönme hareketi - Gece ve gündüz oluşumu
- D) Dolanma hareketi - Mevsimlerin oluşumu

4.



Yukarıdaki kapalı kaptaki bulunan bir miktar gazın hacmi, piston aşağı itilerek azaltılıyor. Bu işlem sonucunda gazın hangi özelliği değişmez?

- A) Tanecikler arası boşluk
- B) Gazın yayılma hızı
- C) Gazın kapladığı alan
- D) Gazın toplam kütlesi

5. Darası 100 gram ve brüt kütlesi 850 gram olan bir tenekenin içindeki sıvı maddenin 250 gramı bir bardağa boşaltılıyor. Tenekenin içinde kalan sıvının net kütlesi ne kadardır?
- A) 500 gram  
B) 750 gram  
C) 950 gram  
D) 1200 gram

6. Mehmet'in kahvaltısında peynir, zeytin, reçel, yumurta, domates, maydanoz, ekme ve taze sıkılmış portakal suyu vardır. Mehmet kahvaltısını bitirdikten sonra peynir ve yumurtaya hiç dokunmadığını fark etmiştir.



Mehmet'in kahvaltısıyla ilgili aşağıdaki ifadelerden hangisi yanlıştır?

- A) Besinlerin tamamında su vardır.  
B) Besinlerden sadece bir tanesi karbonhidrat bakımından zengindir.  
C) Yapıcı ve onarıcı besin grubu bakımından zengin besinleri tüketmemiştir.  
D) Vücudumuzda düzenleyici olarak görev yapan besinlerden tüketmiştir.

7.

	D	Y
Kuvvet, cisimlere etki ederek onların kütlesini artırır.		
Kuvvet, cisimlere etki ederek onların hareketini durdurur.		
Kuvvetin etkisi kalkınca esnek cisimler eski haline döner.		
Hareket eden cisme aynı yönde kuvvet uygulanırsa cisim durur.		

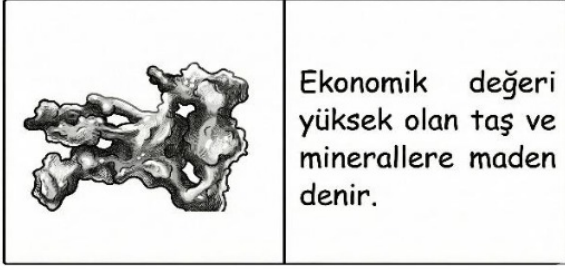
Tablodaki bilgiler doğru ise (D), yanlış ise (Y) kutucuğu işaretlenecektir. Öğrenciler tabloyu şu şekilde doldurmuştur.

Sare	Y-D-Y-D
Ali	Y-D-D-D
Şeyma	D-Y-D-Y
Melda	D-D-Y-Y

Öğrenciler her doğru cevap için 20 puan alacak olup yanlış cevap için puan düşmeyecektir. Buna göre hangi öğrenci en çok puan almıştır?

- A) Sare  
B) Ali  
C) Şeyma  
D) Melda

8.



Bakır elementi, Türkiye'nin sanayi ve üretim sektörlerinde önemli bir hammadde olarak büyük bir yer tutmaktadır. Elektrik ve elektronik sektörden inşaat, otomotivden enerjiye kadar birçok endüstride kullanılan bakır, yüksek iletkenlik özellikleri sayesinde vazgeçilmez bir malzemedir. Ülkemizde bakırın çıkarıldığı iller Artvin'de Murgul, Kastamonu'da Küre, Elazığ'da Ergani ve Maden, Rize'de ise Çayeli'dir. Vücuttaki temel minerallerden birisi olan bakır, kişilerin sağlıklı bir metabolizmaya, sinir sisteminin düzgün çalışmasına, güçlü ve sağlıklı kemiklere sahip olmasını sağlıyor.

**Yukarıda verilen bilgilere göre bakır ile ilgili aşağıdakilerden hangisine ulaşamaz?**

- A) Madenler ihtiyaç doğrultusunda farklı amaçlarla kullanılabilirler.
- B) İnsan vücudu için önemli bir yere sahiptir.
- C) Dünyada elektrik sektöründe büyük öneme sahiptir.
- D) Ülkemizde bakır madeni çıkarılmaktadır.

9. Eskiden tarlaya giden büyüklerimiz içecekleri sularını, gün boyu serin kalsın diye testilerde götürürlermiş. Testilerin suyu soğuk tutma özellikleri, geçirimli olmalarından dolayıdır. Testiler düşük derecede pişirilir ve nispeten gözenekli kalırlar. İçlerindeki suyu, hafif hafif gözeneklerinden dışarı vererek terlerler. Bu terleme olayı, buharlaşma yoluyla ısı düzenlemesi yapar ve serinlemeyi sağlar. Yani, testinin yüzeyinden dışarı çıkan su, dışarıdaki sıcak havayla karşılaşınca buharlaşır. Buharlaşma sırasında, su tanelikleri testinin içindeki sudan ısı aldıkları için su sürekli serin kalır. Böylece tarlalarda güneşin altında serin serin sularını içmiş olurlar.

**Buna göre aşağıdaki olaylardan hangisi testinin içindeki suyun soğumasına sebep olan olayla aynı hal değişimine örnektir?**

- A) Yaz aylarında yenilen dondurmanın erimesi
- B) Açıkta bırakılan ekmeğin kurumması
- C) Yağmurun yağması
- D) Buzluğa konulan suyun donması

10. Kerem'in bir günlük beslenmesi aşağıdaki tabloda verilmiştir.

<b>KAHV ALTI</b>	<ul style="list-style-type: none"><li>• 1 dilim ekme k</li><li>• 1 bardak süt</li><li>• 2 dilim peynir</li><li>• 1 yumurta</li></ul>
<b>ÖĞLE</b>	<ul style="list-style-type: none"><li>• 170 gr tavuk</li><li>• 1 tabak nohut</li><li>• 1 kase yoğurt</li><li>• 1 tabak pilav</li></ul>
<b>AKŞAM</b>	<ul style="list-style-type: none"><li>• 1 kase mercimek çorbası</li><li>• 100 gr kırmızı et</li><li>• 1 kase yoğurt</li><li>• 1 porsiyon meyve</li></ul>

**Kerem ile ilgili aşağıdakilerden hangisi söylenemez?**

- A) Dengeli beslenmiştir.  
B) Vücudunda kırık olabilir.  
C) Kahvaltıda daha çok bitkisel besinler tüketmiştir.  
D) Obezite riski taşımamaktadır.

1. Bu testte 10 soru vardır.

2. Cevaplarınızı cevap kâğıdının Sosyal Bilgiler Testi için ayrılan kısmına işaretleyiniz

1. Elif, deprem riskinin yüksek olduğu bir bölgede yaşamaktadır. Ailesiyle birlikte acil durum çantası hazırlamış, evdeki ağır eşyaları duvara sabitlemiş ve deprem sırasında güvenli bir yerde beklemenin önemini öğrenmiştir. Depremden sonra ise yetkililerin uyarılarını takip ederek güvenli alanlara gitmiştir.

**Buna göre Elif'in yaptığı davranışlar aşağıdakilerden hangisini göstermektedir?**

- A) Afetler karşısında hazırlıksız olduğunu  
B) Afetten önce, afet sırasında ve afetten sonra gerekli önlemleri aldığını  
C) Sadece afet sırasında dikkatli davrandığını  
D) Afetlerden sonra hiçbir şey yapmadığını

2.



**Aşağıdakilerden hangisi aile tarihini araştırırken kullanabileceğimiz yazılı veya görsel bir kaynak değildir?**

- A) Büyükanemın çocukluk fotoğraf albümü  
B) Dedemin anlattığı çocukluk hikâyeleri  
C) Babamın okul karnesi  
D) Ailenin eski nüfus cüzdanları

3. Aşağıda 4 bölgemizin bir günlük hava durumu verilmiştir.



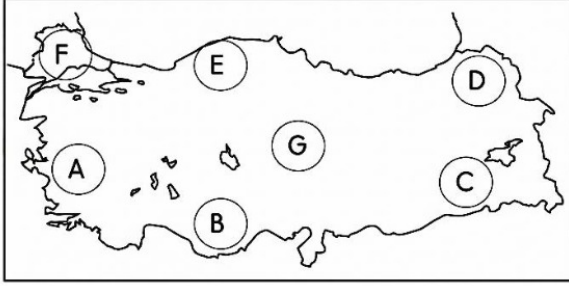
**Bölgelerimizdeki hava durumu ile yapılan aşağıdaki yorumlardan hangisi yanlıştır?**

- A) Akdeniz Bölgesi'nde yıldırım düşmesine karşı dikkatli olunmalıdır.  
B) Doğu Anadolu Bölgesi'nde buzlanmaya karşı dikkatli olunmalıdır.  
C) Karadeniz Bölgesi'nde sel ve su taşkınlarına karşı dikkatli olunmalıdır.  
D) Marmara Bölgesi'nde çatı uçması ve ağaç devrilmesine karşı dikkatli olunmalıdır.

4. Bir kişinin diğer insanlardan ayırt edilmesini sağlayan en önemli özellik aşağıdakilerden hangisidir?

- A) İlgi ve yeteneklerinin farklı olması  
B) Kurallara uyması  
C) Derslerinde başarılı olması  
D) Düzenli kitap okuması

5.



**Görseldeki Türkiye haritasına göre hangi bilgi yanlıştır?**

- A) A şehri G şehrinin kuzeybatısındadır.
- B) G şehri B şehrinin kuzeydoğusundadır.
- C) C şehri B şehrine göre daha doğudadır.
- D) D şehri C şehrinin kuzeyindedir.

6. Her insanın ilgi alanları, düşünceleri ve görünüşü birbirinden farklıdır. Bu farklılıklar kimseyi diğerinden üstün ya da eksik yapmaz. Toplum içinde huzurla yaşayabilmek için bu durumun kabul edilmesi gerekir.

**Verilen metne göre aşağıdaki yorumlardan hangisi yapılabilir?**

- A) İnsanlar yalnızca kendilerine benzeyenlerle arkadaşlık etmelidir.
- B) Farklılıklar toplum yaşamını olumsuz etkiler.
- C) İnsanların farklı özellikleri hoşgörüyle karşılanmalıdır.
- D) Herkes aynı davranışları sergilemelidir.

7. Millî Mücadele'nin kadın kahramanlarından biri de Tayyar Rahmiye'dir. Fransız işgali sırasında Hüseyin Ağa'nın millî kuvvetlerine katılır. Rahmiye Hanım daha sonra küçük bir müfrezeye komutanlık yapar. Hasanbeyli civarındaki çatışmalar sırasında askerlerimizin bir kısmı arada kalır. Rahmiye Hanım ve askerleri kahramanca savaşarak onları kurtarır. Rahmiye Hanım bu çarpışmalarda o kadar hızlı ve gayretlidir ki ona Tayyar (uçan) Rahmiye denmeye başlanır. 1 Temmuz 1920'de Tayyar Rahmiye Hanım ve müfrezesi bir emirle baskın düzenlemek üzere Fransız karargâhına doğru yola çıkar. Fransızlar çok kuvvetli karşılık verir. Müfreze durur. Tayyar Rahmiye Hanım, yoğun ateş altında ayağa kalkmıştır. Aldığı kurşun yaralarıyla karargâha varmaya çok az kala şehit olur. Onun şehit olması müfrezesini harekete geçirir ve kahramanca savaşarak karargâhı ele geçirirler.

**Bu bilgiye göre Tayyar Rahmiye Hanım'ın gösterdiği kahramanlık, Millî Mücadele'nin hangi yönünü en iyi açıklar?**

- A) Türk milletinin kadın, erkek, genç ve yaşlısıyla birlikte bağımsızlık için mücadele ettiğini gösterir.
- B) Sadece erkeklerin savaşta görev aldığını gösterir.
- C) Fransızların Anadolu'yu yönetmeye devam ettiğini gösterir.
- D) Savaşın sadece büyük şehirlerde gerçekleştiğini gösterir.

8. Aşağıdakilerin hangisinde söz edilen özelliklerin tamamı fiziksel özelliklerdir?

- A) Kıvrıkcık saçlı, mavi gözlü ve uzun boylu çocuk sınıfa girdi.
- B) Uzun boylu sporcu yarışta birinci gelince çok sevindi.
- C) Beyaz saçlı dedem torununu görünce duygulandı.
- D) Kısa boylu ve gözlüklü adam yolda yürürken endişeliydi.

9. • Ham petrolün rafineride işlenerek yakıtı dönüştürülmesi
- Toprağın şekillendirilerek seramik ürünler yapılması
  - Pamuk ipliğinin dokuma tezgâhlarında kumaşa çevrilmesi

**Yukarıda verilen bilgiler aşağıdaki kavramlardan hangisine örnek olur?**

- A) Pazarlama
- B) Tüketim
- C) Üretim
- D) Dağıtım

10. Aşağıda resmi kimlik belgemizle ilgili verilen bilgilerden hangisi yanlıştır?

- A) Temel kimlik bilgilerimi içeren bölümde adım, soyadım ve doğum tarihim yazar.
- B) Kimlik kartımın üzerinde 11 rakamdan oluşan T.C. kimlik numaram vardır.
- C) Yeni kimlik kartlarımın rengi, kadın ve erkek herkes için aynıdır.
- D) Resmî kimlik belgemi Belediye Başkanlığından temin ederim.

1. Bu testte 10 soru vardır.

2. Cevaplarınızı cevap kâğıdının Din Kültürü ve Ahlak Bilgisi Testi için ayrılan kısmına işaretleyiniz.

1. İslam dini insanlara karşı alçak gönüllü, iyi, dürüst, adaletli ve güvenilir olmayı öğütler. Anne babaya iyi davranılmasını, komşu, dost ve akrabalarla iyi ve kardeşçe geçinilmesini ister. Yoksullara yardım etmeyi, insanlara saygılı olmayı, başkalarının haklarını gözetmeyi buyurur.

**Verilen paragrafa göre Müslümanın en önemli özelliği aşağıdakilerden hangisidir?**

- A) Güzel ahlaklı olmak  
B) Kültürel faaliyetlerde bulunmak  
C) Sürekli ibadet etmek  
D) Çok çalışmak

2. I. Allah şifa versin.  
II. Allah rahmet eylesin.  
III. Allah'a emanet ol

**Yukarıdaki dini ifadeler sırasıyla hangi durumlarda kullanılır?**

- A) Hasta birisine- Allah arttırsın dileğiyle – Teşekkür için  
B) Teşekkür için - Tebrik için – Ölen birisinin arkasından  
C) Hasta birisine - Ölen birisinin arkasından – Bir yerden ayrılırken  
D) Dua için - Helal etmek için – Teşekkür etmek için

3. “Dinimizce serbest olan, yapmamızda herhangi bir sakınca olmayan iş ve davranışlara helal denir.”

**Bu tanıma göre aşağıdakilerden hangisi helal bir davranış değildir?**

- A) Para kazanmak için çalışmak  
B) Zor durumda kalana yardım etmek  
C) Hırsızlıkla kazanç sağlamak  
D) Arkadaşından borç para almak

4. Akıl sahiplerini kendi istek ve hür iradeleri ile hayırlı olan şeylere sevk eden ilahî kurallardır. Bu kurallar davranışlarımızı etkilediği gibi dilimizi de etkiler.

**Yukarıda hakkında bilgi verilen kavram hangisidir?**

- A) Tekbir  
B) Din  
C) Hamd  
D) İman

5. “Sallallâhu aleyhi ve sellem (sav.)” ifadesi, Peygamberimiz Hz.Muhammed’e (sav.) duyulan sevgiyi ve saygıyı göstermek için kullanılan dua ifadesidir.

**Bu ifadeyi karşılayan kavram aşağıdakilerden hangisidir?**

- A) Tekbir  
B) Hamd  
C) Şükür  
D) Salavat

6. Aşağıdakilerden hangisi sözlükteki 'Ayet' tanımına uygundur?
- A) Sadece dualardan oluşan kısa bölümlerdir.
- B) Peygamberlerin söylediği tüm güzel sözlerdir.
- C) Kur'an-ı Kerim'in her bir cümlesine ayet denir.
- D) Kur'an'ın her bir sayfasına verilen genel isimdir.
7. Kur'an-ı Kerim hakkında aşağıda verilen bilgilerden hangisi yanlıştır?
- A) Kur'an-ı Kerim son ilahi kitaptır.
- B) Kur'an-ı Kerim Hz. Muhammed'e (s.a.v.) gönderilmiştir.
- C) Kur'an-ı Kerim'in içinde 30 sure vardır.
- D) Kur'an-ı Kerim'i ezberleyen kişilere hafız denir.
8. Hata ve günahlarımızı Allah'ın (c.c.) affetmesini dilemek için kullandığımız bir dua cümlesidir. "Allah'tan (c.c.) af ve bağışlanma isterim" anlamına gelir. **Hakkında bilgi verilen dini ifade hangisidir?**
- A) Sübhanallah      B) Allahü Ekber
- C) Maşallah      D) Estağfirullah

9. I. Namaz kılmak  
II. Meleklerle inanmak  
III. Oruç tutmak  
IV. Hacca gitmek  
V. Peygamberlere inanmak

**Yukarıda verilenlerden hangileri İslam'ın inanç esaslarındadır?**

- A) II ve V  
B) I, III ve IV  
C) I, II ve V  
D) III ve IV

10. "Eşhedü en lâ ilâhe illallah ve eşhedü enne Muhammeden abduhû ve resûluh" ifadesinin anlamı aşağıdakilerden hangisidir?
- A) "Ben kabul ederim ki Allah'tan başka ilâh yoktur. Yine kabul ederim ki Hz. Muhammed Allah'ın kulu ve resulüdür."
- B) "Yaratan Rabbinin adıyla oku!"
- C) "Hamd, âlemlerin rabbi olan Allah içindir."
- D) "Rahman ve Rahim olan Allah'ın adıyla"



T.C. MİLLİ EĞİTİM BAKANLIĞI  
**ABDÜLEZEL PAŞA**  
**İMAM HATİP ORTAOKULU**

*"İlim, İrfan ve Hikmet Yolunda Geleceğin Öncüleri"*



## Okul İçi Tatbikat Camimiz

Okulumuzun kalbinde yer alan Tatbikat Camii, öğrencilerimizin sadece akademik değil, ahlaki ve manevi yönden de donanımlı bireyler olarak yetişmelerine olanak tanıyan benzersiz bir eğitim merkezidir.

### 📖 MESLEKİ PRATİK

Öğrencilerimiz imamlık, müezzinlik ve vaizlik becerilerini teorikten pratiğe dökerek, gerçek bir cemaat önünde tecrübe ederler.

### 🗣️ HİTABET VE ÖZGÜVEN

Hutbe okuma ve Kur'an tilaveti uygulamalarıyla öğrencilerimizin topluluk önünde konuşma yetenekleri desteklenir.

### 📖 KUR'AN VE HAFIZLIK

Camimizin atmosferi, hafızlık yapan öğrencilerimiz için huşu içinde çalışabilecekleri özel bir ortam sunar.

### 💖 MANEVİ GELİŞİM

Sadece bir ibadethane değil, bir terbiye ocağı olan camimizde; öğrencilerimize namaz bilinci ve cemaat ruhu aşılanır.

### 👥 SOSYAL SORUMLULUK

Dini ve milli gün programlarının organizasyonunda aktif rol alarak liderlik ve sorumluluk bilinci kazanırlar.

### ☀️ KARAKTER İNŞASI

Aynı safta omuz omuza duran öğrencilerimiz; kardeşliği yaşayarak öğrenir, sağlam bir manevi karakter inşa ederler.



*"Cemaatle kılınan namaz, tek başına kılınan namazdan yirmi yedi derece daha faziletlidir."*

HADİS-İ ŞERİF (BUHÂRÎ, EZAN 30)



# NEDEN ABDÜLEZEL PAŞA İHO?

*"Ecdadın İzinde, İstikbalin Peşinde,  
Değerlerine Sahip Çıkan Bir Nesil İçin..."*

🏆 2024 LGS TÜRKİYE BİRİNCİSİ 🏆



## AKADEMİK BAŞARI

Güçlü eğitim kadromuzla LGS'ye yönelik yoğunlaştırılmış programlar uyguluyor, **Türkiye birincileri** çıkararak öğrencilerimizi en iyi liselere hazırlıyoruz.



## HAFIZLIK & MANEVİ GELİŞİM

Örgün eğitimle birlikte yürüttüğümüz **Hafızlık Eğitimi** ve temel dini bilgilerle, ahlaklı ve karakter sahibi nesiller yetiştiriyoruz.



## ÇİFT DİLLİ EĞİTİM

Öğrencilerimize küresel bir vizyon kazandırmak amacıyla **İngilizce ve Arapça** olmak üzere 2 dilli, yoğunlaştırılmış yabancı dil eğitimi sunuyoruz.



## SOSYAL & KÜLTÜREL

Öğrencilerimizin yeteneklerini keşfetmesi için spor kulüpleri, akıl ve zeka oyunları, gezi programları ve TÜBİTAK projeleri ile destekliyoruz.

## GELECEĞİNİZE YÖN VERMEK İÇİN SİZİ DE BEKLİYORUZ!

Sınav sonuçlarının açıklanması sonrasında, 5. Sınıf kayıt işlemleri ve detaylı bilgi için okulumuzu ziyaret edebilir veya iletişim kanallarımızdan bize ulaşabilirsiniz.

## İLETİŞİM BİLGİLERİMİZ

- 📍 Kosova Mah. Coşandere Cad. No:47/1  
Selçuklu/Konya
- ☎ 0332 501 10 14
- 🌐 [www.abdulezelpasaiho.com.tr](http://www.abdulezelpasaiho.com.tr)

SINAV KİTAPÇIĞI VE CEVABI İÇİN  
OKUTUNUZ



Telefonunuzun kamerasına okutun